

**ATIVIDADE: CÍRCULOS**

**OFICINA: MATEMÁTICA**

**IDADE: 14 ATÉ 17 ANOS**

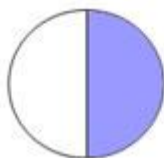


**#ICSEM CASA**

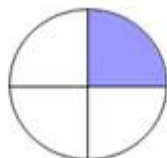
Observe as imagens abaixo:



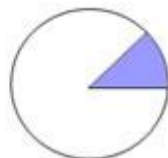
1°



2°



3°



4°



5°

De acordo com as imagens e a atividade CÍRCULOS QUEBRADOS, quais círculos correspondem a:

a) 25%?

b) 1%?

c) 50%?

d) 12,5%?

e) 100%?

f)  $\frac{1}{4}$ ?

g)  $\frac{1}{8}$ ?

h)  $\frac{1}{100}$ ?

i)  $\frac{1}{2}$ ?

j)  $\frac{4}{4}$  ou 1?

k) 90°?

l) 360°?

m) 180°?

n) 3.6°?

o) 45°?